











Retrouvez au sol les bornes numérotées  du parcours et répondez aux questions correspondantes :

- | | Réponses | Score* |
|--|----------------------|--------|
|  Cette croix de personnages en céramique avait un rôle indicateur pour le lieu où elle se trouve. Quel emplacement marquait-elle ? | <input type="text"/> | /1 |
|  Que représentent les cerfs et les tours gravés sur cet écusson en pierre de Labeaume ? | <input type="text"/> | /3 |
|  On voit beaucoup de pierres à entailles dans les ruelles et à l'entrée des maisons. A quoi servaient-elles ? | <input type="text"/> | /3 |
|  La tour carrée avait un rôle de communication avec les villages en hauteur environnants. Quels procédés utilisait-on pour communiquer ? | <input type="text"/> | /2 |
|  Dans la rue du Puits, on remarque une petite tour circulaire. Au ras du sol, à sa base, on voit des ouvertures. Quel était leur usage ? | <input type="text"/> | /4 |
|  Les noms des ruelles soulignent souvent une caractéristique (Rue étroite, Rue noire). Pourquoi cette rue s'appelle-t-elle Rue Chaude ? | <input type="text"/> | /3 |
|  Le bas-relief situé à droite en entrant dans l'église représente une scène biblique. Pouvez-vous la reconnaître ? | <input type="text"/> | /1 |
|  Cette maison est un vestige d'un bâtiment qui autrefois, marquait l'entrée nord de Vinezac. Quel était ce bâtiment ? | <input type="text"/> | /3 |

Score Total : /20



Pour connaître les solutions, calculez votre score et découvrez si vous avez le profil d'un explorateur, rendez-vous au point info .

D'autres cartons-jeux vous attendent dans les autres Villages de caractère, consultez la liste sur : www.ardeche-guide.com rubrique Villages de caractère